

Họ và tên:

Lớp: 3.....

PHIẾU LUYỆN TOÁN - TUẦN 24

I/ TRẮC NGHIỆM

Câu 1 :a)Các tháng.....có 31 ngày.

b) Các tháng.....có 30 ngày.

Câu 2: Tháng 4 có..... ngày; Tháng 2 thường có hoặc ngày.

Câu 3: Ngày 24 tháng 8 là chủ nhật, ngày 3 tháng 9 cùng năm đó là thứ mấy?

A. Thứ hai B. Thứ ba C. Thứ tư D. Thứ năm

Câu 4: Điền số vào chỗ chấm cho thích hợp

a) Anh Hoàng đi từ nhà lúc 7 giờ 30 phút và đến thị xã lúc 8 giờ 10 phút. Vậy anh Hoàng đi từ nhà đến thị xã hết phút

b) Chị Hà làm việc từ 8 giờ sáng đến 5 giờ chiều. Chị Hà làm việc trong giờ

c) An đi học lúc 7 giờ 5 phút và đến trường lúc 7 giờ 20 phút .Vậy An đi từ nhà đến trường hết ... phút

d) Tiết học Toán bắt đầu lúc 7 giờ 30 phút, kết thúc lúc 8 giờ 5 phút. Tiết học Toán kéo dài trong ... phút

Câu 5. Xem tờ lịch Tháng 6 dưới đây và trả lời câu hỏi:

Thg 6						
			1	2	3	4
			.			
5	6	7	8	9	10	11
12	13	14	15	16	17	18
19	20	21	22	23	24	25
26	27	28	29	30		

a. Trại hè tổ chức từ ngày 5 tháng 6 đến hết ngày 18 tháng 6. Vậy trại hè diễn ra trongtuần

b. Thời gian đăng kí tham gia trại hè là hết Chủ Nhật đầu tiên của tháng sáu. Vậy ngày hết hạn đăng kí là ngày tháng 6.

c. Tháng 6 có ngày Chủ Nhật đó là các ngày:.....

Câu 6: Các tổ lớp 3A thi gấp sao trong một tuần từ tổ 1 đến tổ 4 được số sao lần lượt như sau: Tổ 1: 2205, Tổ 2: 1067; Tổ 3: 1503; Tổ 4: 2456.

a. Tổ gấp được nhiều nhất là:

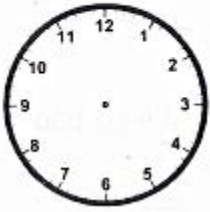
b. Tổ gấp được hơn 2 000 sao là:

c. Tổ gấp được ít hơn 2 000 sao là:

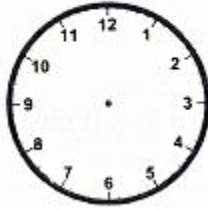
II. TỰ LUẬN:

Bài 1. Vẽ kim giờ và kim phút để đồng hồ chỉ:

8 giờ 10 phút



6 giờ 15 phút

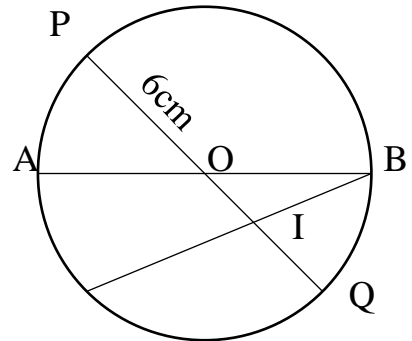


7 giờ 45 phút




Bài 2: Quan sát hình dưới đây, điền Đ, S vào ô trống thích hợp:

- Hình tròn tâm O có vô số bán kính.
- Hình tròn tâm O có bán kính bằng 6cm
vậy đường kính bằng 12m.
- I là trung điểm đoạn thẳng PQ.
- O là trung điểm đoạn thẳng AB.



Bài 3: Bộ phim gia đình Lan yêu thích bắt đầu chiếu lúc 21 giờ 40 phút và kết thúc lúc 22 giờ 25 phút. Hỏi bộ phim kéo dài bao lâu?

Bắt đầu



Kết thúc



Bài giải:

.....

.....

.....

.....

Bài 4: Viết tất cả các số có 4 chữ số mà chữ số hàng nghìn hơn chữ số hàng trăm 2 đơn vị, chữ số hàng trăm hơn chữ số hàng chục 2 đơn vị, chữ số hàng chục hơn chữ số hàng đơn vị 2 đơn vị.

Số đó là.....