

Họ và tên:

Lớp: 3.....


PHIẾU LUYỆN TOÁN - TUẦN 23

I/ TRẮC NGHIỆM

Khoanh vào chữ đặt trước câu trả lời đúng hoặc làm theo yêu cầu:

Câu 1. Đồng hồ bên đang chỉ:

- A. 3 giờ 45 phút
- B. 9 giờ 20 phút
- C. 4 giờ 45 phút
- D. 4 giờ 9 phút



Câu 2. Dũng vào học ở trường lúc 8 giờ sáng và tan học lúc 11 giờ trưa. Hỏi Dũng đã ở trường học mấy giờ?

- A. 4 giờ
- B. 3 giờ
- C. 2 giờ
- D. 1 giờ

Câu 3. Nói:

9 giờ kém 12 phút

4 giờ kém 16 phút

5 giờ 37 phút

8 giờ 48 phút

3 giờ 44 phút

6 giờ kém 23 phút

Câu 4. Điền số thích hợp vào




a) Khoảng thời gian từ 4 giờ 12 phút đến 5 giờ 12 phút là:.....phút

b) Khoảng thời gian từ 3 giờ kém 5 phút đến 3 giờ 5 phút là: phút

c) Khoảng thời gian từ 5 giờ 20 phút đến 6 giờ là: phút

II/ TỰ LUẬN

Bài 1. Đồng hồ chỉ mấy giờ?



.....
-------	-------	-------

Bài 2. Xem đồng hồ và viết giờ bằng 2 cách gọi:



.....
hoặc hoặc hoặc

Bài 3. Mỗi khi đi học về, Minh ngồi nghỉ 10 phút , cậu lại xem ti vi thêm 20 phút nữa trước khi bắt đầu ăn trưa. Bữa trưa của cậu kéo dài trong 20 phút và kết thúc vào lúc 12 giờ. Hỏi Minh về nhà lúc mấy giờ?

Bài giải

.....
.....
.....
.....

Bài 4. Bạn Ngọc trang trí một hộp quà dạng khối lập phương bằng cách dán 6 bông hoa vào mỗi mặt của hộp quà. Hỏi bạn Ngọc đã dán bao nhiêu bông hoa vào hộp quà đó?

Bài giải

.....
.....
.....
.....

Bài 5. Số?

Minh muốn tạo chiếc khung có dạng khối hộp chữ nhật từ hai khối lập phương (như hình). Mỗi đỉnh cần 1 viên đất nặn, 1 cạnh cần 1 que tăm. Vậy:

- Minh cần que tăm
- Minh cầnviên đất nặn

