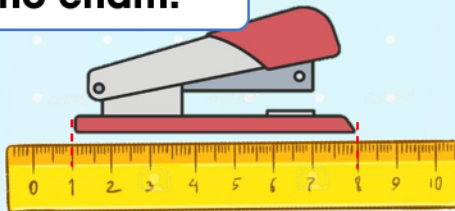




Bài 1 Viết số thích hợp vào chỗ chấm.



.....cm




.....cm



.....cm

Bài 2 Viết số thích hợp vào chỗ chấm.



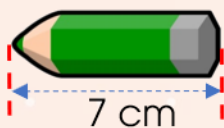
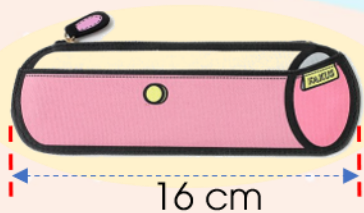
.....cm

.....cm

.....cm

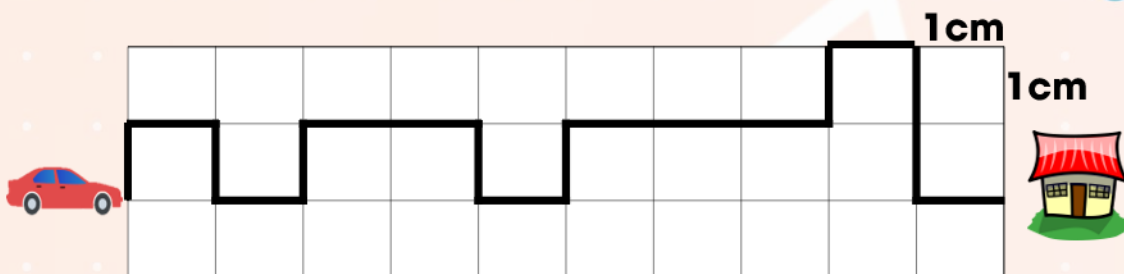
.....cm

Bài 3 Đồ vật nào cho được vào trong hộp bút. Em hãy khoanh tròn vào đồ vật đó.



Bài 4 Tính độ dài đường in đậm mà ô tô sẽ đi

- A. 16cm
- B. 17cm
- C. 18cm



Mẹ - người tuyệt vời nhất của mỗi con người trên thế gian này có được!