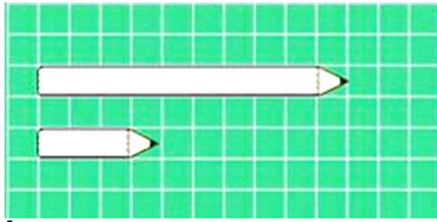


PHIẾU BÀI TẬP TUẦN 24

A. TRẮC NGHIỆM

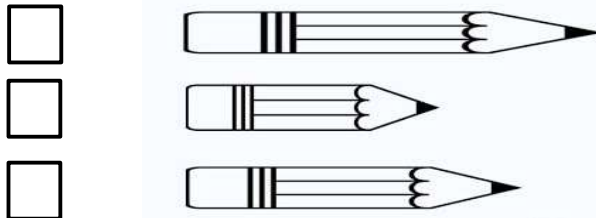
Câu 1: Khoanh vào cái bút dài hơn:



Câu 2: Khoanh vào chiếc bút ngắn hơn:




Câu 3: Đánh dấu x vào ô trống đặt cạnh chiếc bút chì dài nhất:





Câu 4: Tô màu đỏ vào chiếc lọ thấp nhất, tô màu xanh vào chiếc lọ cao nhất:



Câu 5: Đánh dấu x vào ô trống bên cạnh cách đặt thước đúng:

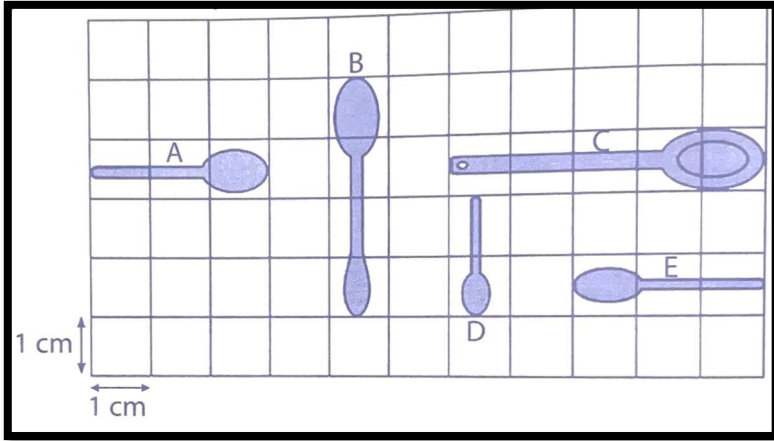


Câu 6: Viết số đo độ dài thích hợp vào chỗ trống:



B. TỰ LUẬN

Câu 1: Quan sát hình vẽ, viết số thích hợp vào chỗ chấm:



- a. Chiếc thìa A dài: cm
- b. Chiếc thìa B dài: cm
- c. Chiếc thìa C dài: cm
- d. Chiếc thìa D dài: cm
- e. Chiếc thìa E dài: cm
- f. Chiếc thìa dài nhất là: thìa, dài cm

Câu 2: Tính:


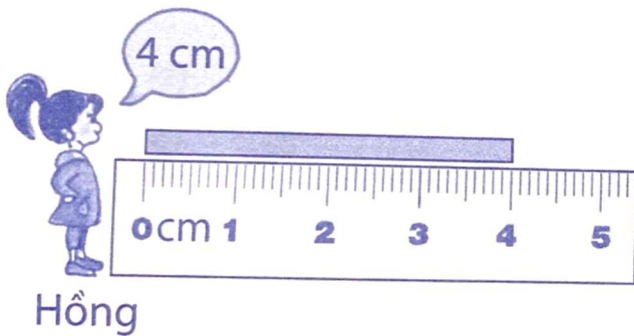
$7\text{cm} + 3\text{cm} = \dots\dots\dots \text{cm}$

$9\text{cm} - 3\text{cm} = \dots\dots\dots \text{cm}$

$1\text{cm} + 9\text{cm} = \dots\dots\dots \text{cm}$

$10\text{cm} - 6\text{cm} = \dots\dots\dots \text{cm}$

Câu 3: Quan sát hình vẽ và trả lời câu hỏi:



Cách đo của bạn nào đúng? Vì sao?

Trả lời:

.....

Câu 4: Em dùng thước kẻ đo chiều dài băng giấy sau sau:



Băng giấy dài:..... cm