

Nhận xét của giáo viên:

Khoanh vào chữ cái đặt trước câu trả lời đúng hoặc làm theo yêu cầu:

Câu 1. Con cá nào dài nhất?




Câu 2. Điền: “*cao hơn, thấp hơn*” vào chỗ chấm cho thích hợp:

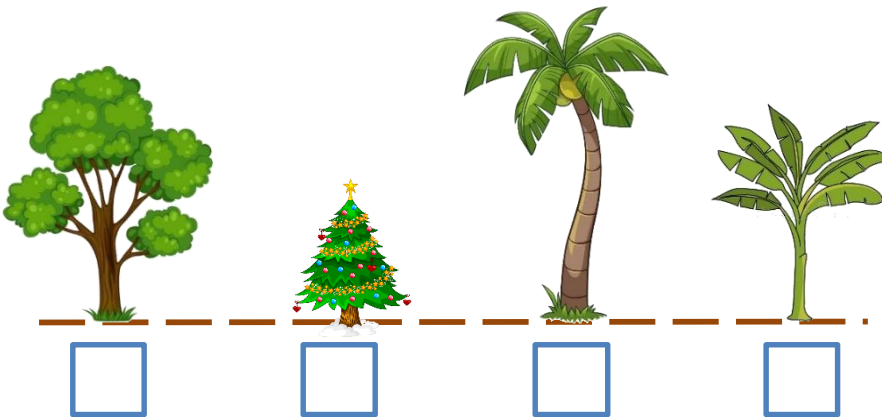
a. HùngViệt

b. ViệtLinh

c. LinhHùng



Câu 3. Viết các số 1, 2, 3, 4, vào mỗi ô trống theo thứ tự các cây từ thấp đến cao:
(Cây thấp nhất viết số 1)

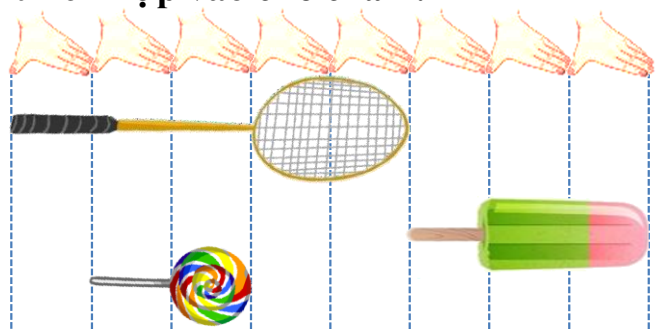


Câu 4. Quan sát hình dưới đây rồi viết số thích hợp vào chỗ chấm:

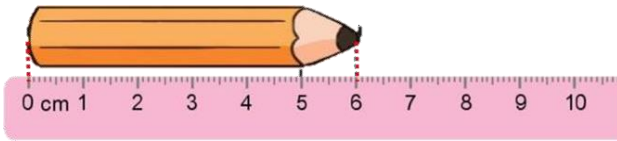
a, Cái vợt dàigang tay.

b, Kẹo mút dàigang tay.

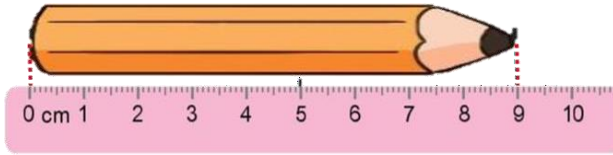
c, Que kem dàigang tay.



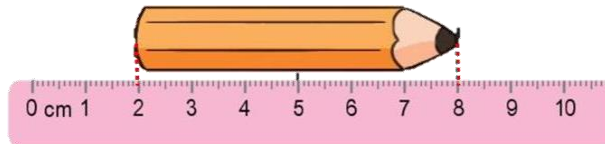
Câu 5. Mỗi chiếc bút chì sau dài mấy xăng-ti-mét?



.....



.....



.....

Câu 6. Con hãy giúp các bạn lập các số có hai chữ số bằng cách sử dụng các tấm thẻ trên bàn.

Các số con lập được là:

.....

.....

