

Họ và tên:.....

Lớp .....

**PHIẾU TỰ LUYỆN MÔN TOÁN - TUẦN 26**

**I. TRẮC NGHIỆM:**

*Hãy khoanh tròn vào chữ cái trước câu trả lời đúng nhất hoặc làm theo yêu cầu*

**Bài 1.** Minh có 15 000 đồng gồm 3 tờ tiền có giá trị như nhau. Vậy nếu Minh có 2 tờ tiền như thế thì Minh có:

- A. 6 000 đồng
- B. 10 000 đồng
- C. 20 000 đồng
- D. 30 000 đồng

**Bài 2.** Một đội lát được 3 054 mét đường. Hỏi 5 đội như thế lát được bao nhiêu mét đường?

- A. 15 270
- B. 15 270 m
- C. 15 250m
- D. 15 070 m


**Bài 3.** Tính chu vi hình vuông có độ dài cạnh bằng 1 217dm


- A. 4 848
- B. 4 848dm
- C. 4 868dm
- D. 4 868m


**Bài 4.** Mẹ đưa em 100 000 đồng mua đồ dùng học tập. Em mua 2 bút mực giá 13 000 đồng một chiếc, một bút chì giá 8 000 và một hộp bút giá 50 000 đồng. Hỏi em trả lại mẹ bao nhiêu tiền thừa?


- A. 84 000 đồng
- B. 71 000 đồng
- C. 16 000 đồng
- D. 26 000 đồng

**Bài 5:** Đúng ghi Đ, sai ghi S:

$$\begin{array}{r} 1234 \\ \times 3 \\ \hline 3702 \end{array}$$


$$\begin{array}{r} 4021 \\ \times 2 \\ \hline 8242 \end{array}$$


$$\begin{array}{r} 15\ 216 \\ \times 2 \\ \hline 20\ 432 \end{array}$$


$$\begin{array}{r} 20\ 621 \\ \times 4 \\ \hline 82\ 484 \end{array}$$


**PHẦN 2: TỰ LUẬN**

**Bài 1:** Đặt tính rồi tính:

14 121 × 4

18 104 × 5

31 037 × 3

10 315 × 6


**Bài 2:** Tính nhẩm:

9 000 x 7 = .....

23 000 x 2 = .....

4 000 x 9 = .....

15 000 x 4 = .....

