

Họ và tên:.....Lớp 3.....

PHIẾU LUYỆN MÔN TOÁN - TUẦN 30

I. Phần trắc nghiệm

Bài 1: Đúng ghi Đ, sai ghi S

Tính

a) $36\ 072 + 17\ 840 + 921 = ?$

54 833 ... 45 833 ... 58 433 ...

b) $42\ 184 + 21\ 719 - 33\ 942 = ?$

28 961 ... 29 961 ... 32 181 ...

c) $64\ 917 - 54\ 938 + 18\ 094 = ?$

27 038 ... 21 780 ... 28 073 ...

d) $42\ 784 - (9\ 762 + 17\ 454) = ?$

15 568 ... 16 568 ... 17 586 ...

Bài 2. Khoanh vào chữ cái đặt trước đáp án đúng

a) Biết $4\ 568 + ? = 10424$. Giá trị của ? là:

A. 5 856

B. 5 956

C. 5 966

b) Em mua một áo mưa hết 25 000 đồng, một hộp bút màu hết 15 000 đồng và một quyển vở hết 5 000 đồng. Em đưa cho cô bán hàng 3 tờ giấy bạc loại 20 000 đồng. Hỏi cô bán hàng trả lại em bao nhiêu tiền?

A. 110 000 đồng

B. 15 000 đồng

C. 5 000 đồng

c) Một cửa hàng nhận về 37 084kg gạo, ngày đầu bán 10 632kg gạo, ngày thứ hai bán 12 847kg gạo. Hỏi sau hai ngày còn lại bao nhiêu ki-lô-gam gạo?

A. 13 605kg

B. 14 050kg

C. 13 506kg

d) Có một tờ giấy bạc 100 000 đồng. Đổi được mấy tờ giấy bạc loại 50 000 đồng?

A. 3 tờ

B. 2 tờ

C. 4 tờ

e) Hình chữ nhật có chu vi là 28 cm, chiều dài 10 cm. Chiều rộng hình chữ nhật đó là:

A. 18cm

B. 24cm

C. 4 cm

II. Phần tự luận

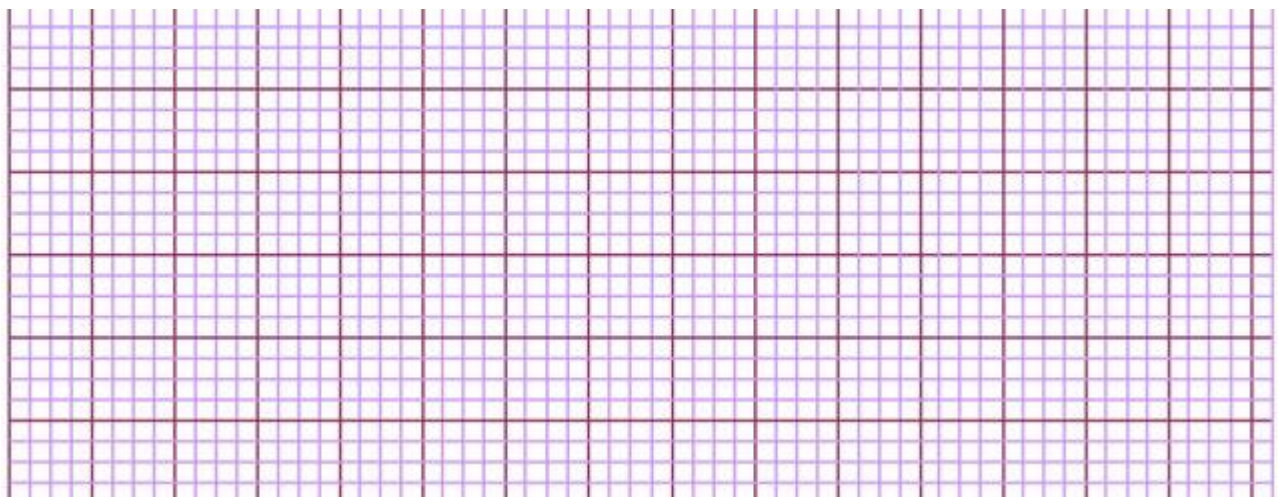
Bài 1: Đặt tính rồi tính

$75\ 394 + 9\ 172$

$59452 - 37\ 826$

$32\ 587 \times 2$

$56\ 785 : 6$



Bài 2: Tính nhẩm:

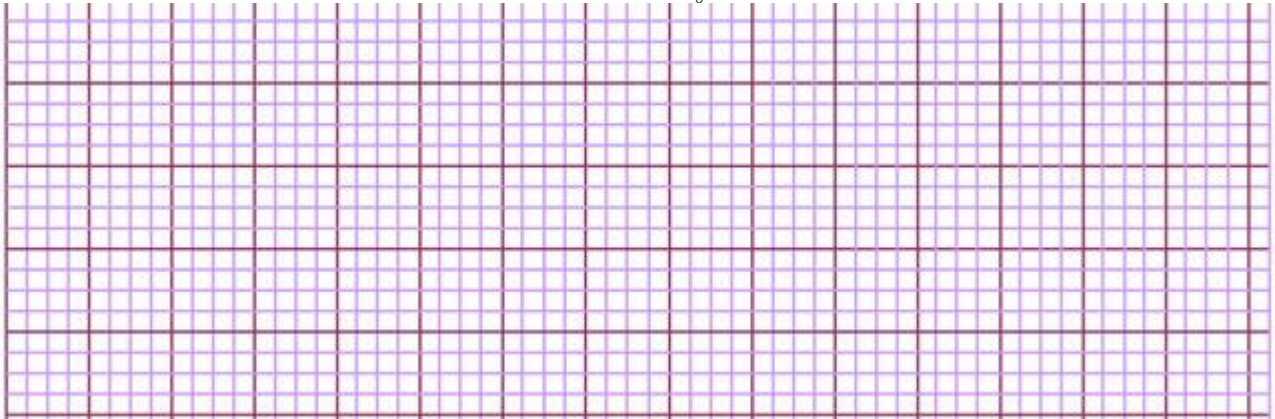
$$50\,000 + 20\,000 + 10\,000 = \dots\dots\dots$$

$$90\,000 - 50\,000 - 20\,000 = \dots\dots\dots$$

$$90\,000 - (50\,000 + 20\,000) = \dots\dots\dots$$

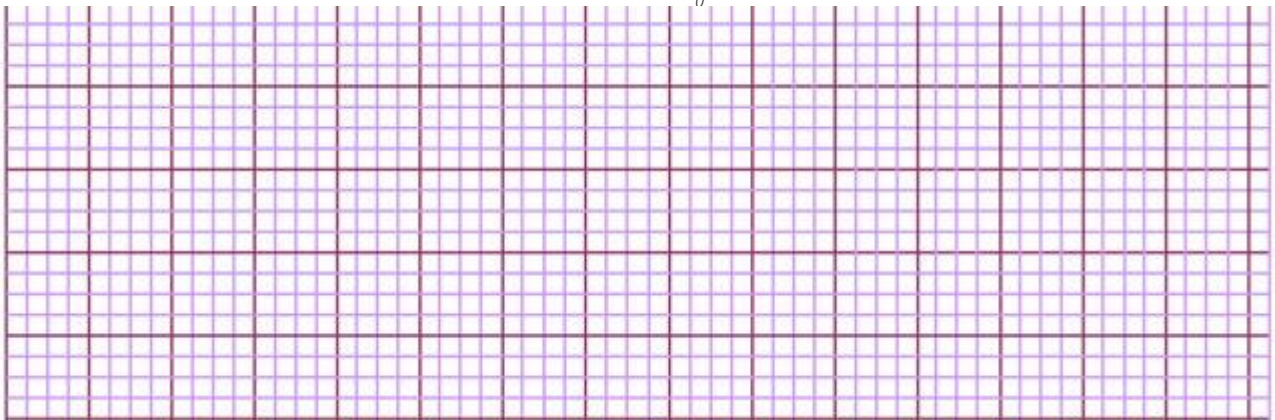
Bài 3: Một trại chăn nuôi có 28 415 con gà mái và gà trống. Hỏi sau khi người ta bán đi 12 154 con gà mái và 9 475 con gà trống thì trại chăn nuôi đó còn lại bao nhiêu con gà?

Bài giải



Bài 4: Người ta dự định chuyển 76 500 quyển vở lên miền núi theo 2 đợt. Đợt thứ nhất đã chuyển được $\frac{1}{3}$ số vở. Hỏi đợt thứ hai sẽ phải chuyển lên bao nhiêu quyển vở?

Bài giải



Bài 5: Tìm 3 số, biết rằng số thứ nhất cộng với số thứ hai bằng 393, số thứ hai cộng với số thứ ba bằng 1 007, số thứ ba cộng với số thứ nhất bằng 864?

